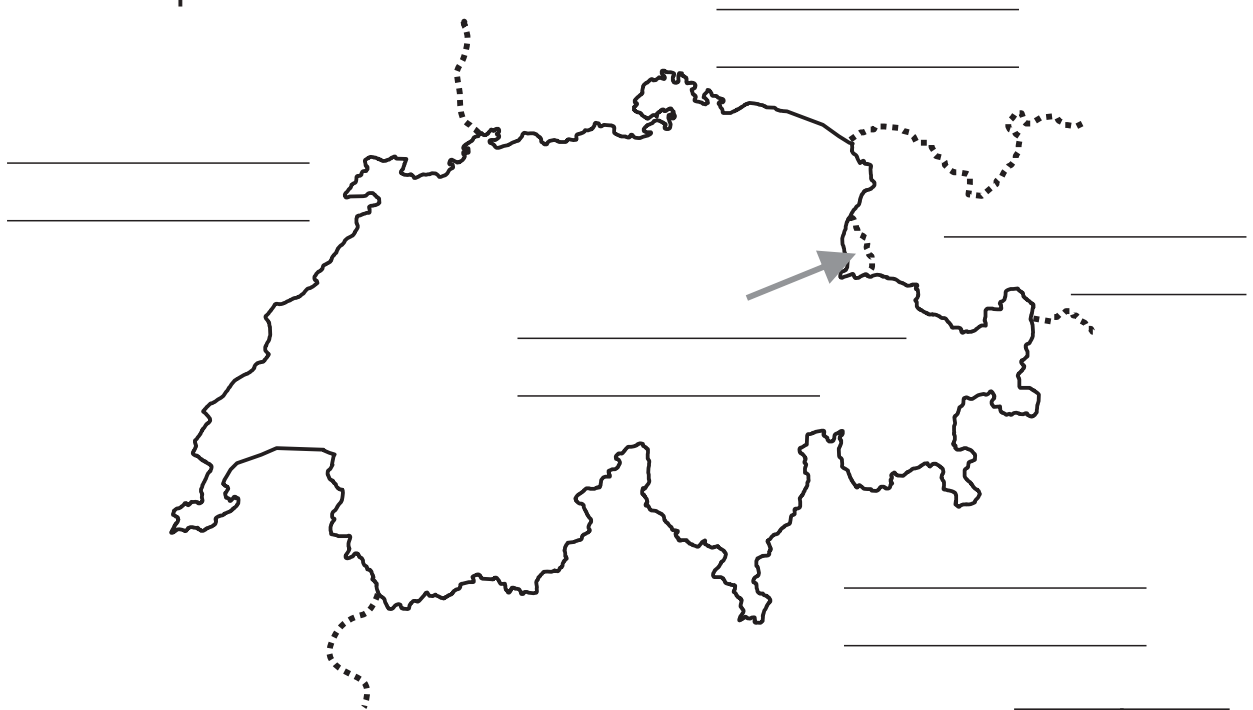


Name: _____

1) Benenne die Nachbarländer der Schweiz und schreibe auch die Hauptstädte dazu!



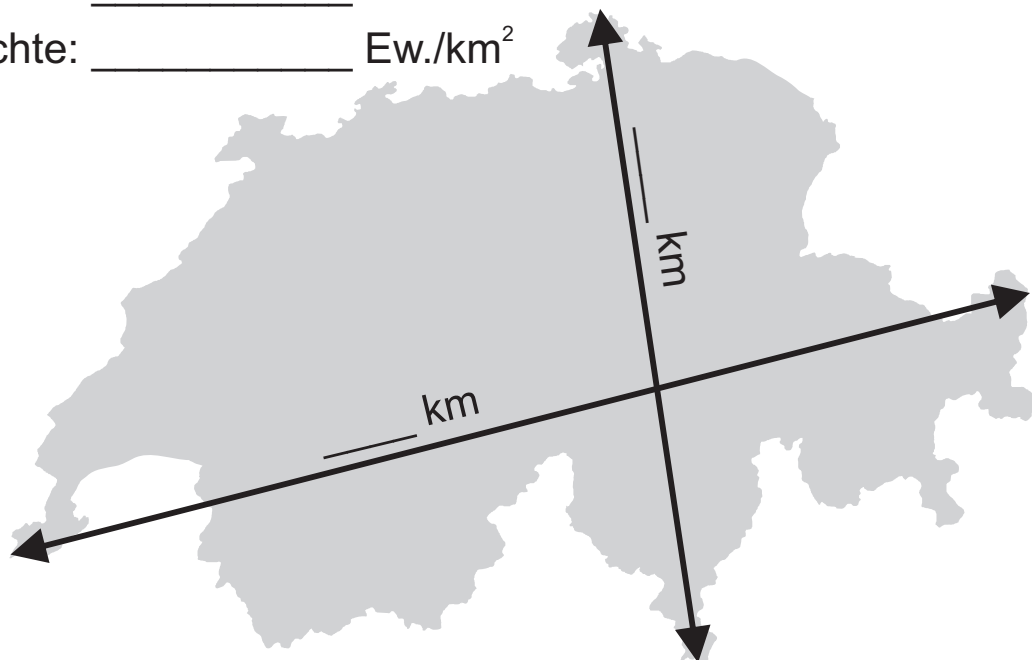
10	
----	--

2) Wichtige Zahlen: Fülle die Linien aus!

Fläche: _____ km²

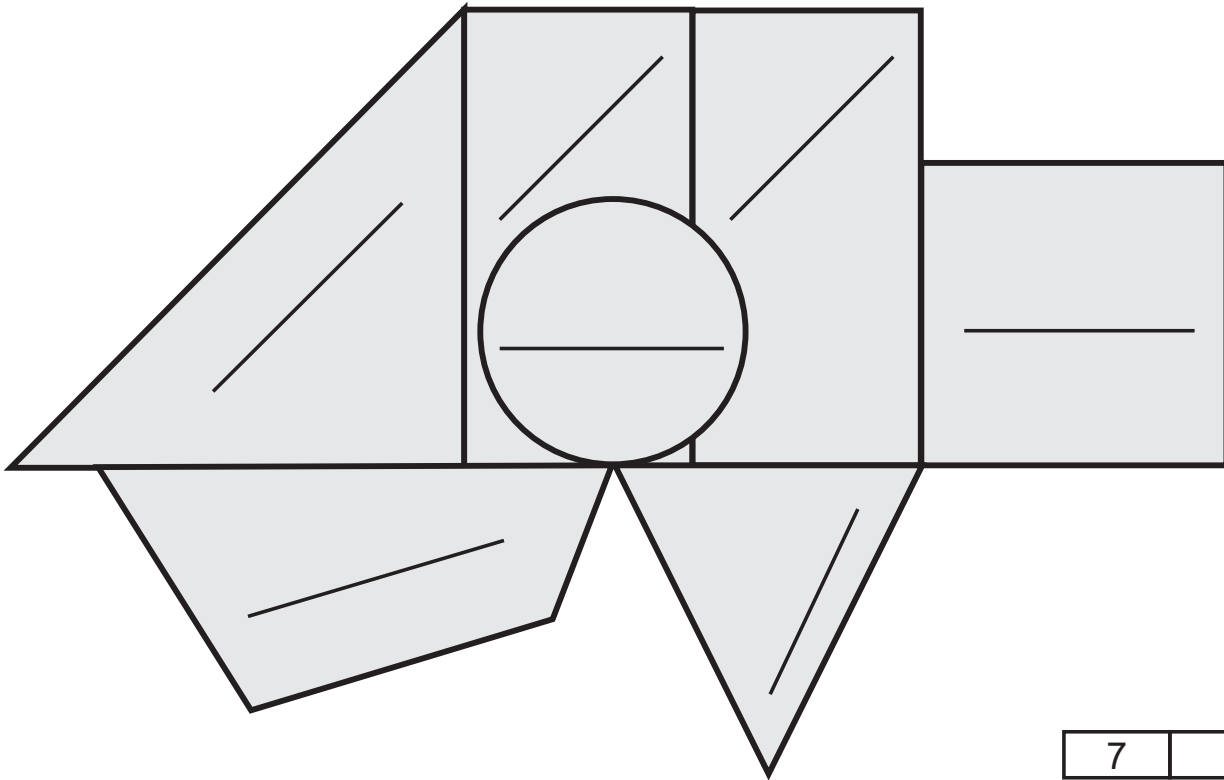
Einwohner: _____ Ew.

Ew.-Dichte: _____ Ew./km²



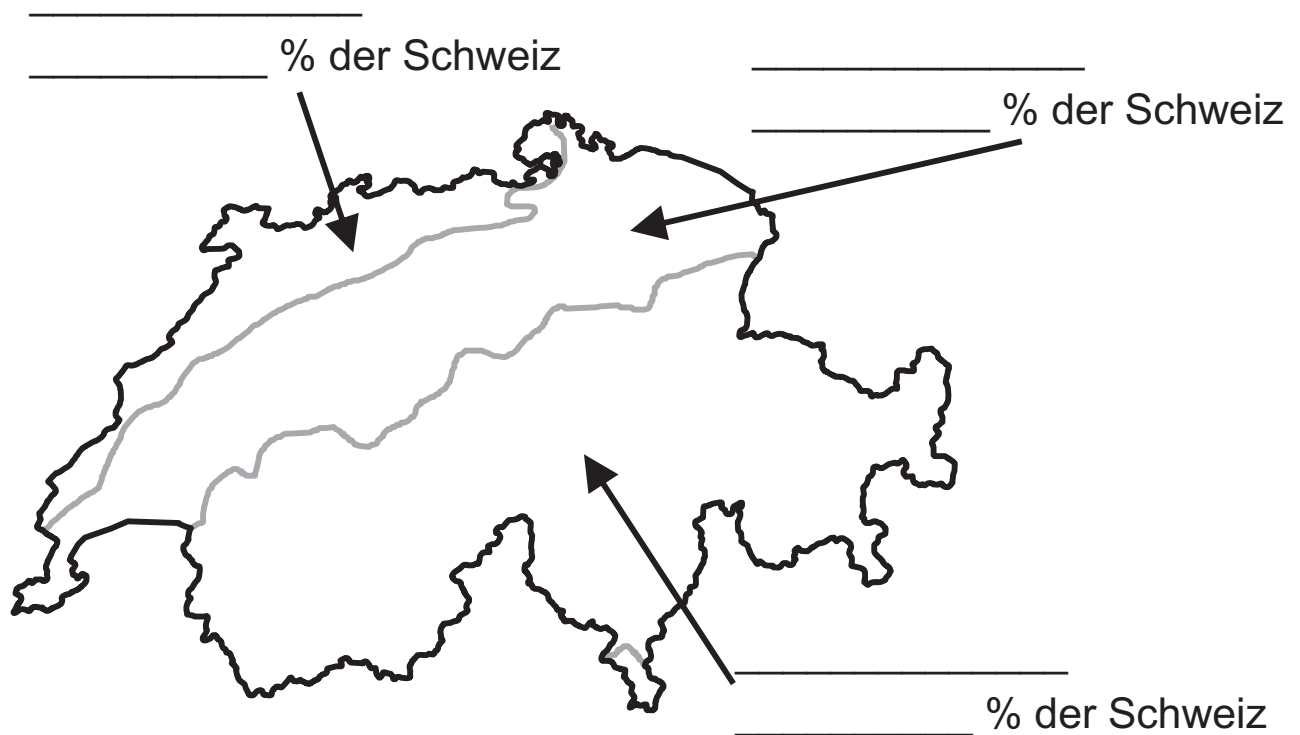
5	
---	--

3) Beschrifte die Regionen der Schweiz!



7	
---	--

4) Landschaften der Schweiz: Fülle die Lücken aus und ordne die Bilder (je zwei pro Landschaft) und Texte zu!















_____ Grosse Längsmulde zwischen den zwei Gebirgen mit kleinen Hügeln

_____ Faltengebirge mit einförmigen Kammlinien

_____ Zerklüftetes Hochgebirge mit ewigem Schnee und Gletschern

Bilder von Roland Zumbühl - www.picswiss.ch


5) Kantone der Schweiz: Fülle die Legende aus!





	Kanton	Hauptstadt	Abk.
1)	_____	_____	_____
2)	_____	_____	_____
3)	_____	_____	_____
4)	_____	_____	_____
5)	_____	_____	_____
6)	_____	_____	_____
7)	_____	_____	_____
8)	_____	_____	_____
9)	_____	_____	_____
10)	_____	_____	_____

6) Kantonswappen: Zu welchem Kanton gehören die Wappen?
 Umkreise jene Wappen mit rot, die einen Fehler haben!



















12	
----	--

7) Bauformen in der Schweiz: Ordne die Häuser einer Region zu!
 Wallis - Jura - Berner Oberland - Tessin - Graubünden











5	
---	--

8) Gewässer der Schweiz: Fülle die Legende aus!

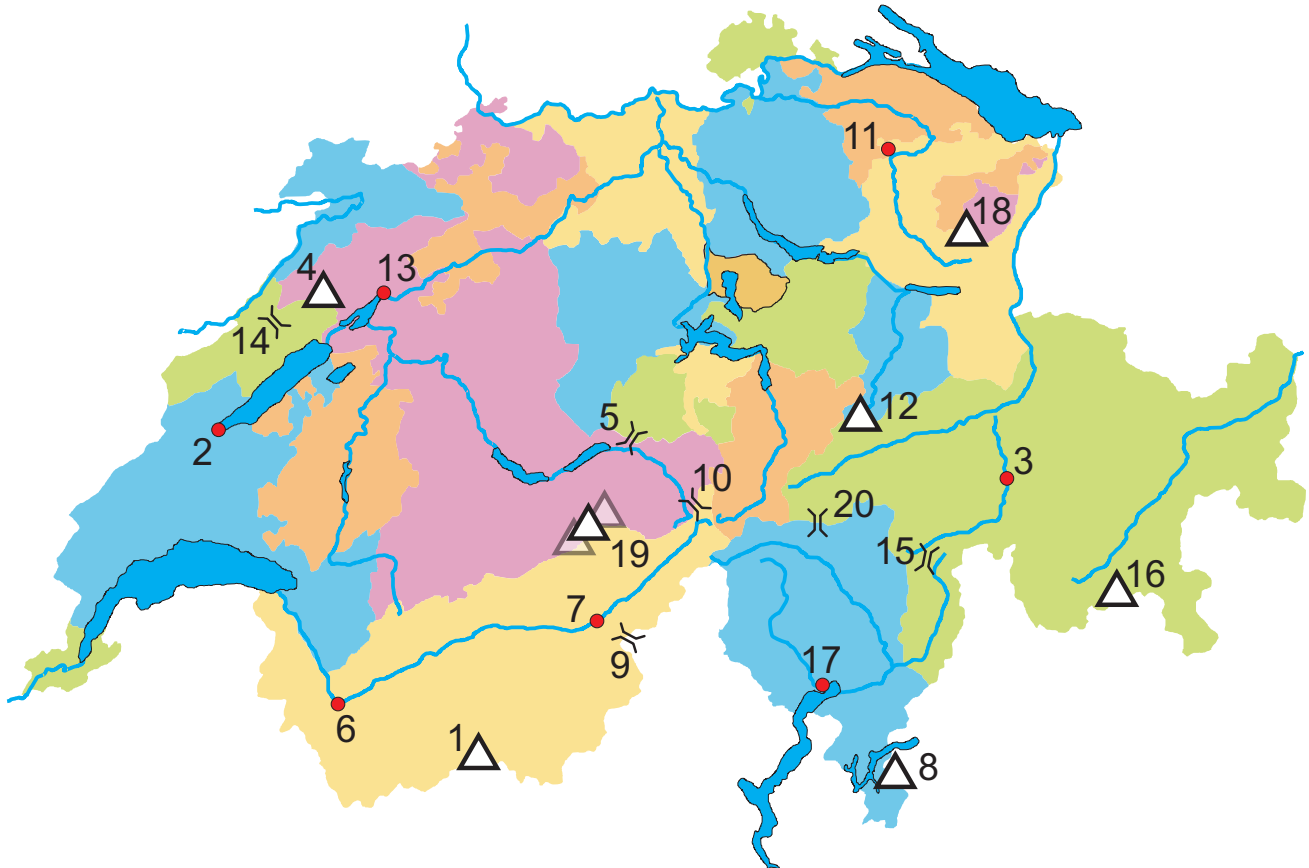


10	
----	--

- 1) _____
- 2) _____
- 3) _____
- 4) _____
- 5) _____

- 6) _____
- 7) _____
- 8) _____
- 9) _____
- 10) _____

9) Benenne die Städte (●), Pässe (↘) und Berge (△)!



- 1) _____
- 2) _____
- 3) _____
- 4) _____
- 5) _____
- 6) _____
- 7) _____
- 8) _____
- 9) _____
- 10) _____

- 11) _____
- 12) _____
- 13) _____
- 14) _____
- 15) _____
- 16) _____
- 17) _____
- 18) _____
- 19) _____
- 20) _____

10) Beantworte die Fragen!

1) Welches Nachbarland der Schweiz hat am zweitmeisten Einwohner?

2) Welcher Fluss mündet in den Ticino?

3) Wie lange ist die Schweizer Grenze? _____ km

4) Wo liegt der tiefste Punkt der Schweiz?

5) Welches ist der nördlichste Kanton der Schweiz?

6) Welches Kantonswappen zeigt als einziges einen Menschen?

7) In welches Meer fließt am meisten Schweizer Wasser?

8) In welchen Fluss mündet die Inn?

9) Wie heisst die Schweiz auf Italienisch?

10) Wie heisst der höchste Punkt der Schweiz?

11) Wann feiert Italien seinen Nationalfeiertag?

12) Welche Landessprache ist am wenigsten verbreitet?

13) In welches Meer mündet die Rhône?

14) Durch wie viele Seen fließt die Aare?

15) Welche Farben zeigt die Flagge von Deutschland?

15	
----	--

Bonuspunkte für die Gestaltung des CH-Heftes: ____ / 10

Punkte max.: 109 / erreicht: _____ / Durchschnitt: _____ / Note: _____