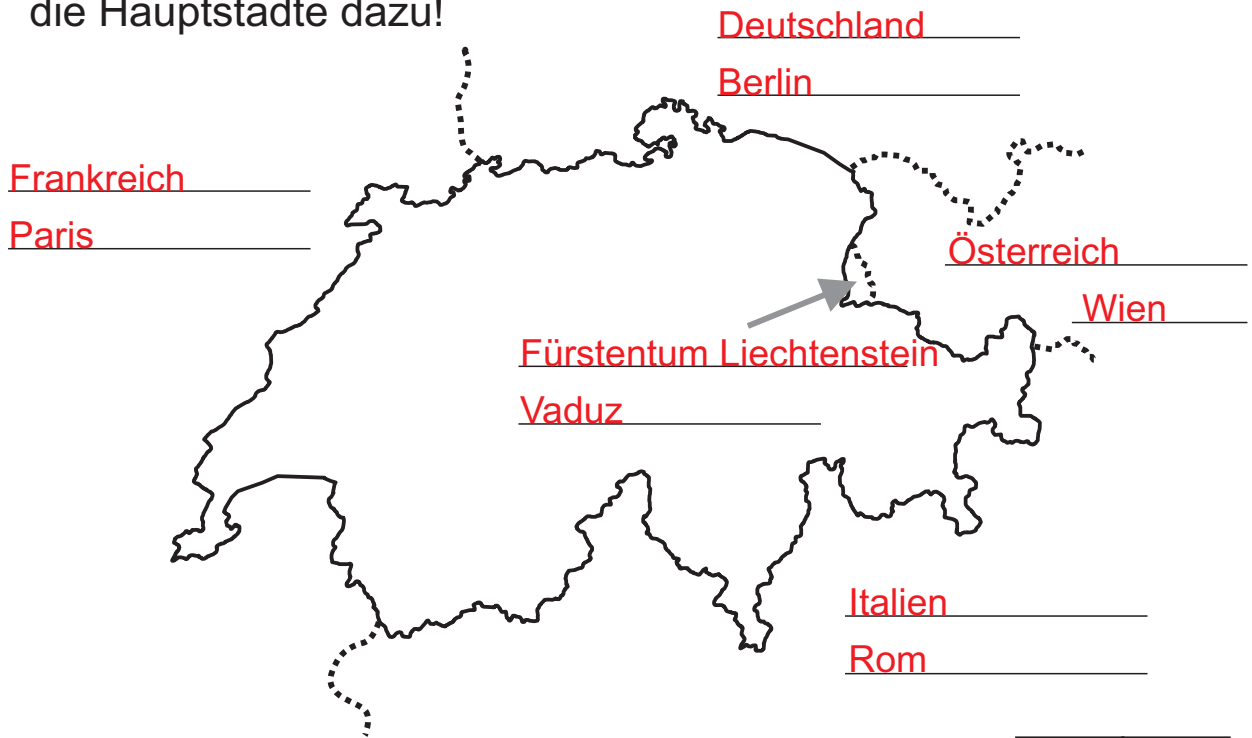


Lösung

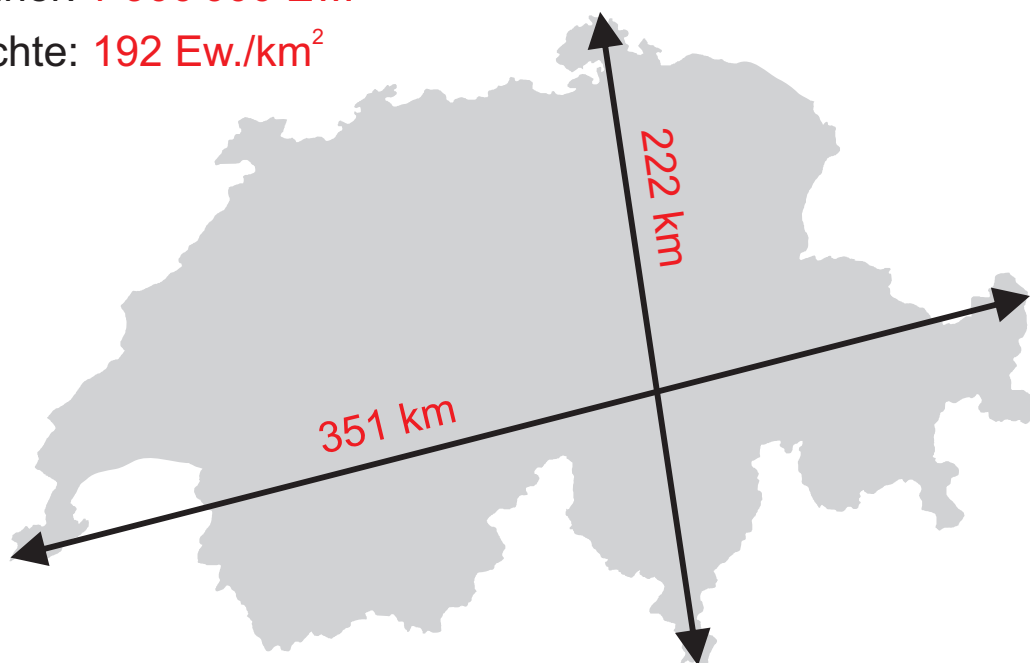
1) Benenne die Nachbarländer der Schweiz und schreibe auch die Hauptstädte dazu!



10	
----	--

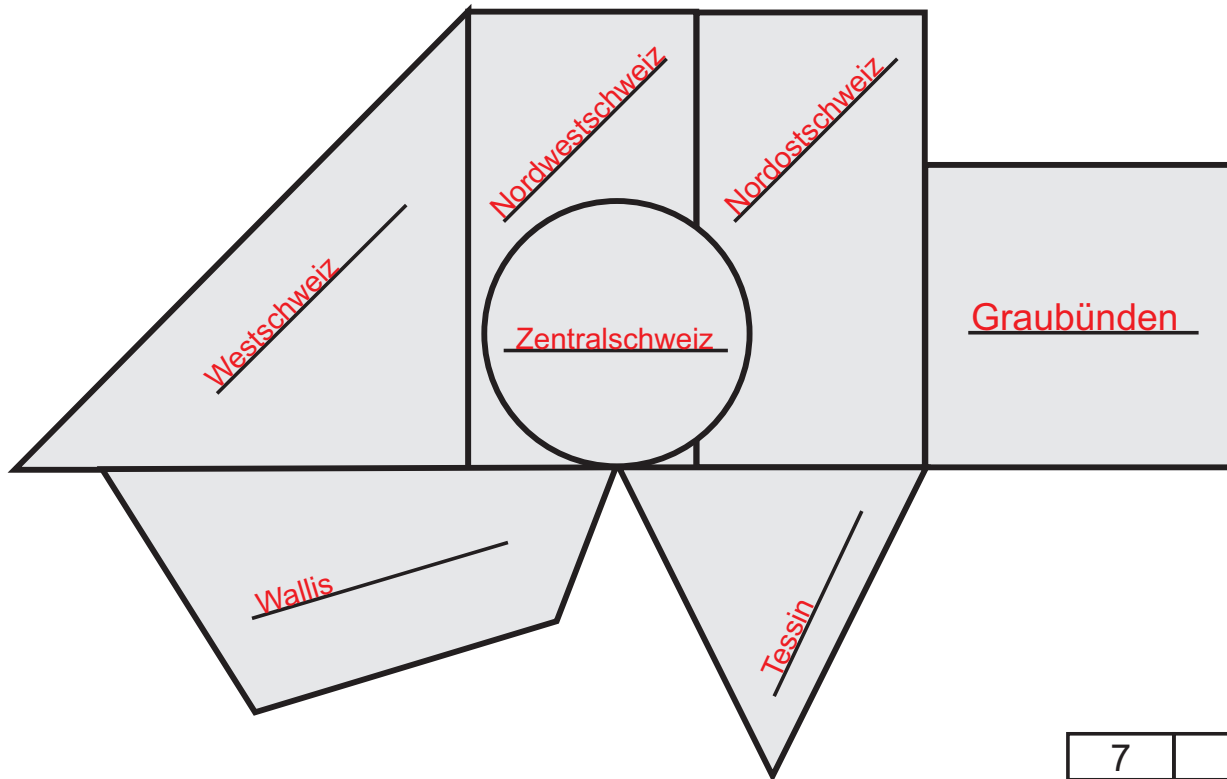
2) Wichtige Zahlen: Fülle die Linien aus!

Fläche: 41'000 km²
Einwohner: 7'900'000 Ew.
Ew.-Dichte: 192 Ew./km²



5	
---	--

3) Beschrifte die Regionen der Schweiz!



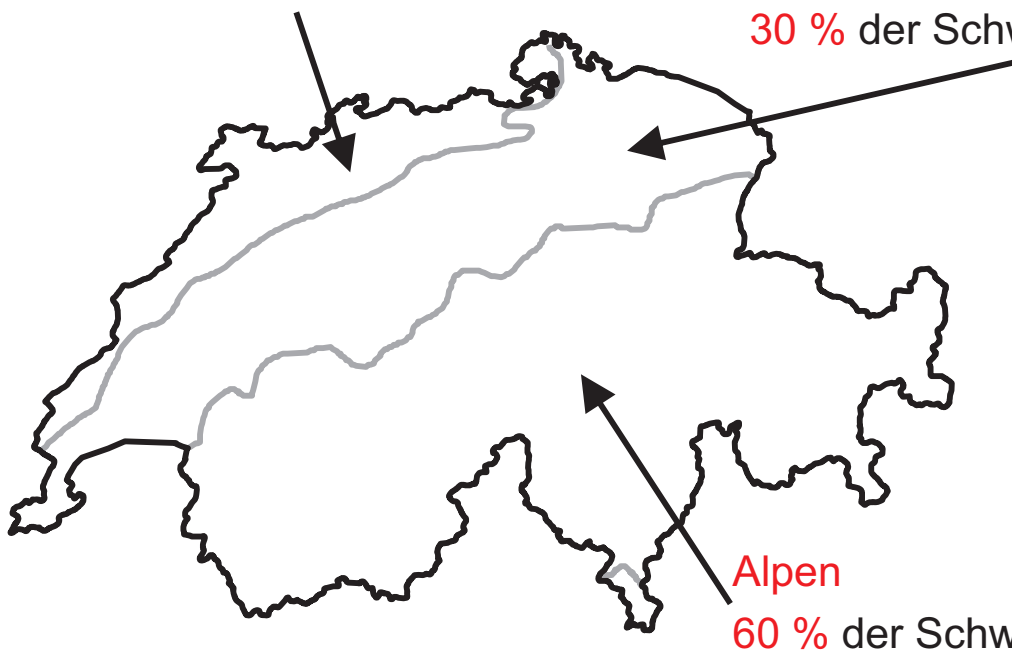
4) Landschaften der Schweiz: Fülle die Lücken aus und ordne die Bilder (je zwei pro Landschaft) und Texte zu!

Jura

10 % der Schweiz

Mittelland

30 % der Schweiz





Jura



Mittelland



Mittelland



Alpen



Jura



Alpen

Bilder von Roland Zumbühl - www.picswiss.ch

Mittelland Grosse Längsmulde zwischen den zwei Gebirgen mit kleinen Hügeln

Jura Faltengebirge mit einförmigen Kammlinien






Alpen Zerklüftetes Hochgebirge mit ewigem Schnee und Gletschern

5) Kantone der Schweiz: Fülle die Legende aus!



	Kanton	Hauptstadt	Abk.
1)	Waadt	Lausanne	VD
2)	Uri	Aldorf	UR
3)	Appenzell Innerrhoden	Appenzell	AI
4)	Tessin	Bellinzona	TI
5)	Jura	Delsberg / Delémont	JU
6)	Wallis	Sitten / Sion	VS
7)	Thurgau	Frauenfeld	TG
8)	Nidwalden	Stans	NW
9)	Glarus	Glarus	GL
10)	Aargau	Aarau	AG

6) Kantonswappen: Zu welchem Kanton gehören die Wappen?
 Umkreise jene Wappen mit rot, die einen Fehler haben!



12	
----	--

7) Bauformen in der Schweiz: Ordne die Häuser einer Region zu!
 Wallis - Jura - Berner Oberland - Tessin - Graubünden



Berner Oberland



Wallis



Tessin



Jura



Graubünden

5	
---	--

8) Gewässer der Schweiz: Fülle die Legende aus!



10

1) Neuenburgersee

2) Zugersee

3) Luganersee

4) Brienersee

5) Walensee

6) Inn

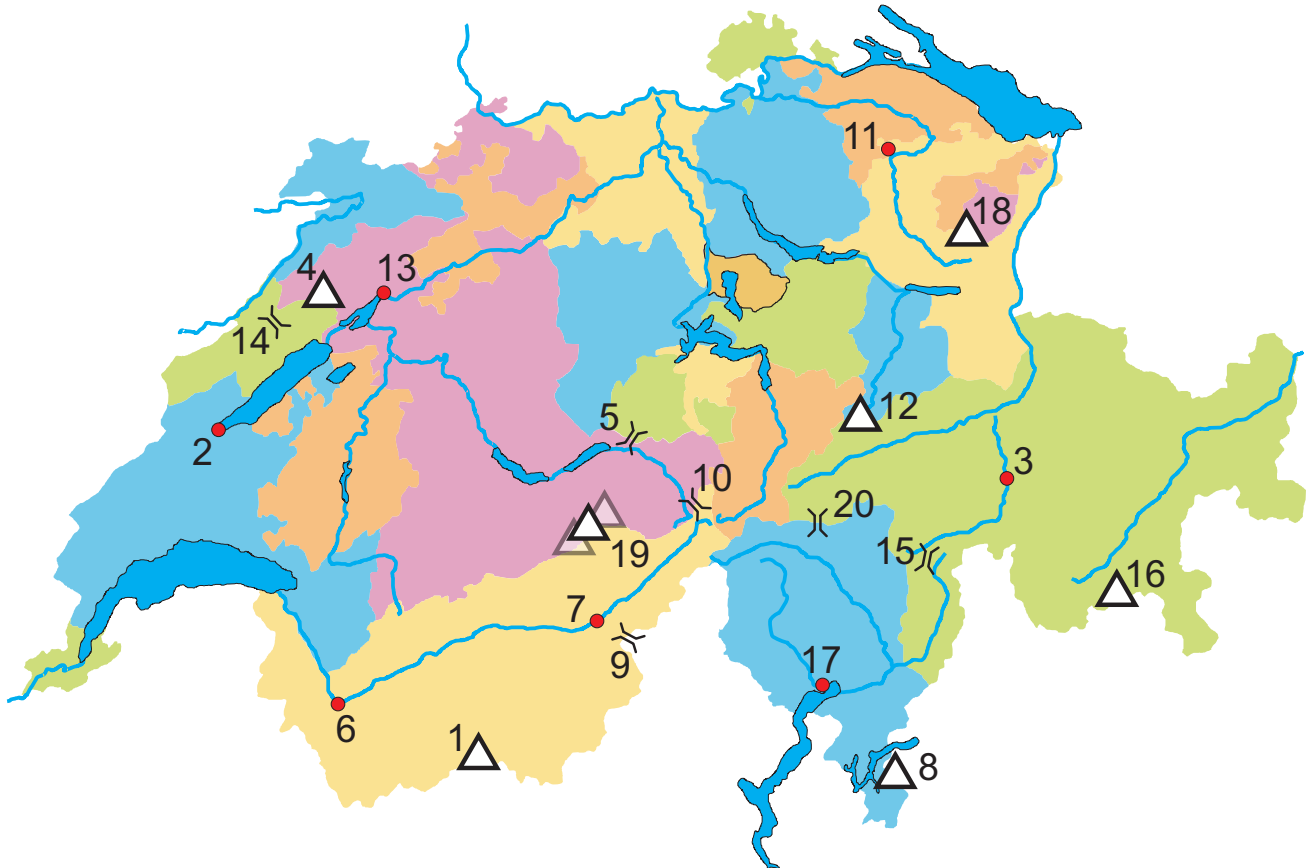
7) Aare

8) Saane

9) Doubs

10) Reuss

9) Benenne die Städte (●), Pässe (↘) und Berge (△)!



- | | |
|------------------------|--------------------|
| 1) Matterhorn | 11) Wil |
| 2) Yverdon(-les-Bains) | 12) Tödi |
| 3) Thusis | 13) Biel / Bienne |
| 4) Chasseral | 14) Vue des Alpes |
| 5) Brünig | 15) San Bernardino |
| 6) Martigny | 16) Piz Bernina |
| 7) Brig | 17) Locarno |
| 8) Monte Generoso | 18) Säntis |
| 9) Simplon | 19) Mönch |
| 10) Grimsel | 20) Lukmanier |

10) Beantworte die Fragen!

- 1) Welches Nachbarland der Schweiz hat am zweitmeisten Einwohner?
Frankreich
- 2) Welcher Fluss mündet in den Ticino?
Moesa
- 3) Wie lange ist die Schweizer Grenze?
1858 km
- 4) Wo liegt der tiefste Punkt der Schweiz?
Lago Maggiore
- 5) Welches ist der nördlichste Kanton der Schweiz?
Schaffhausen
- 6) Welches Kantonswappen zeigt als einziges einen Menschen?
Glarus
- 7) In welches Meer fließt am meisten Schweizer Wasser?
Nordsee
- 8) In welchen Fluss mündet die Inn?
Donau
- 9) Wie heisst die Schweiz auf Italienisch?
Svizzera
- 10) Wie heisst der höchste Punkt der Schweiz?
Dufourspitze
- 11) Wann feiert Italien seinen Nationalfeiertag?
2. Juni
- 12) Welche Landessprache ist am wenigsten verbreitet?
Rätoromanisch
- 13) In welches Meer mündet die Rhône?
Mittelmeer (G. v. Lion)
- 14) Durch wie viele Seen fließt die Aare?
3
- 15) Welche Farben zeigt die Flagge von Deutschland?
schwarz, rot, gold (gelb)

15	
----	--

Bonuspunkte für die Gestaltung des CH-Heftes: ____ / 10

Punkte max.: 109 / erreicht: ____ / Durchschnitt: ____ / Note: ____