


Heft von \_\_\_\_\_

Geografie der  
**Schweiz**

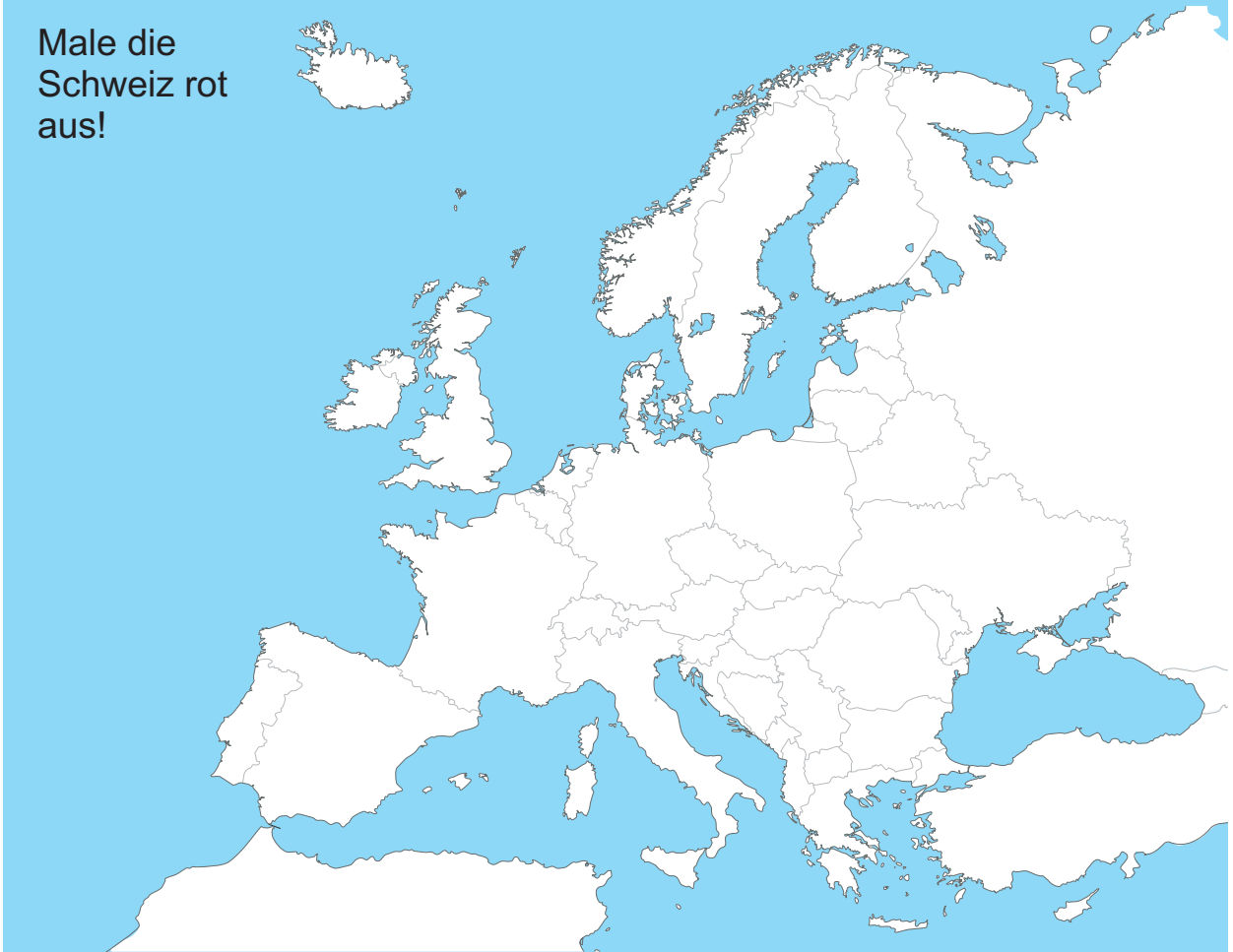




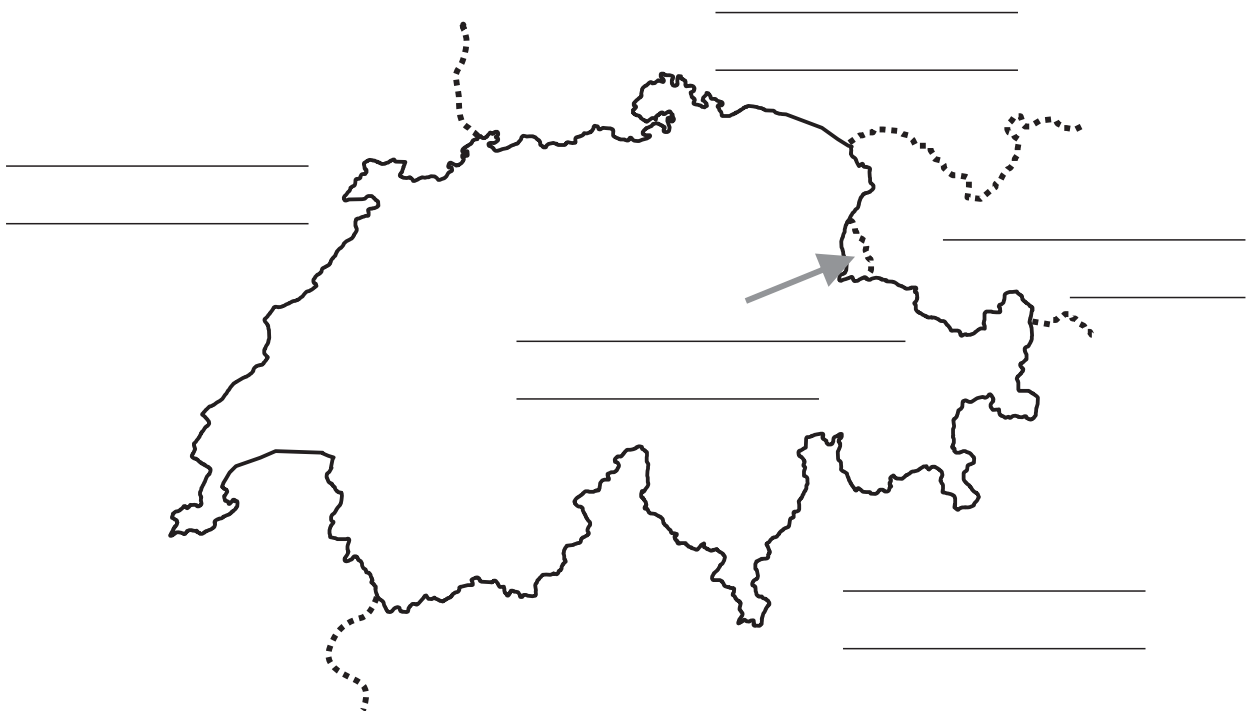
- |  |         |
|--|---------|
| <b>+</b> Du findest die Schweiz auf der Europakarte.   | 2       |
| <b>+</b> Du kennst die Nachbarländer der Schweiz und deren Hauptstädte und weisst, wo sie liegen. Du kennst die Nationalfeiertage und die ungefähre Einwohnerzahl. | 2 + 3   |
| <b>+</b> Du kannst ungefähr die Umriss der Schweiz aufzeichnen.  | 4       |
| <b>+</b> Du kennst die wichtigen Eckdaten der Schweiz und den Nationalfeiertag.  | 5       |
| <b>+</b> Du kennst die Ausdehnung der Schweiz (Chiasso - Borgen und Martina - Chancy).   | 5       |
| <b>+</b> Du kennst die Regionen der Schweiz.   | 6       |
| <b>+</b> Du kennst die drei grossen Landschaften der Schweiz und kannst diese auf der Schweizerkarte einzeichnen. Du kennst deren ungefähre Grösse in Prozent.     | 7       |
| <b>+</b> Du kannst die Kantone der Schweiz auf der Karte beschriften und kennst deren Hauptstädte. Du kennst die Kantonskürzel.                                    | 8 + 9   |
| <b>+</b> Du kennst die Lage weiterer Städte der Schweiz.   | 10      |
| <b>+</b> Du kennst die Kantonswappen.  | 11 + 12 |
| <b>+</b> Du kannst die Seen und Flüsse der Schweiz benennen.   | 13      |
| <b>+</b> Du weisst, wohin unser Wasser fliesst.  | 14      |
| <b>+</b> Du kennst die Landessprachen der Schweiz.   | 15      |
| <b>+</b> Du kennst verschiedene Schweizer Häuser.  | 16      |
| <b>+</b> Du kennst die wichtigsten Berge der Schweiz und kannst sie auf der Karte benennen.  | 17      |
| <b>+</b> Du kennst die wichtigen Pässe der Schweiz.  | 18      |



Male die Schweiz rot aus!



Ordne die Namen der Nachbarländer und deren Hauptstädte zu!



Frankreich - Italien - Fürstentum Liechtenstein - Deutschland - Österreich  
Berlin - Vaduz - Rom - Paris - Wien


Der Nachbarstaat im Norden heisst Deutschland. Die Hauptstadt heisst \_\_\_\_\_. Mit einer Fläche von rund 357'000 km<sup>2</sup> ist das Land etwa \_\_\_\_\_ grösser als die Schweiz. Sein Nationalfeiertag ist der 3. Oktober. Am 3. Oktober 1990 wurden die beiden Teile Deutschlands, die BRD (West-Deutschland) und die DDR (Ost-Deutschland) wieder vereinigt. Deutschland hat \_\_\_\_\_ Einwohner.

Unser Nachbarland im Westen heisst Frankreich mit \_\_\_\_\_ als Hauptstadt. Die Fläche des Landes beträgt 544'000 km<sup>2</sup>, womit es rund \_\_\_\_\_ grösser ist als die Schweiz. Ihren Nationalfeiertag feiern sie am 14. Juli. Am 14. Juli 1789 fand der Sturm auf die Bastille statt. Die Franzosen sprechen französisch. Frankreich hat \_\_\_\_\_ Einwohner.

--	--	--

--	--	--

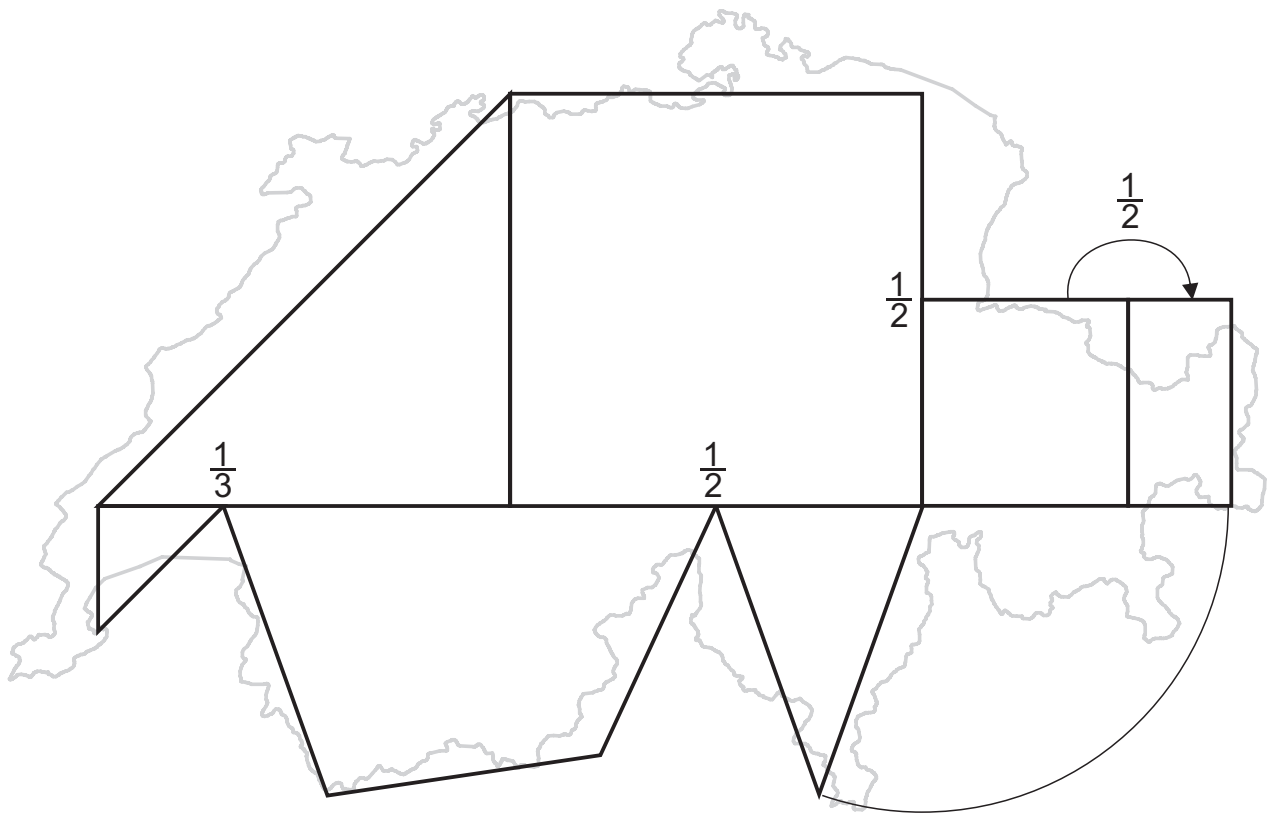
Das südliche Nachbarland heisst Italien. Mit \_\_\_\_\_ als Hauptstadt. Es hat eine Fläche von 301'000 km<sup>2</sup> und ist somit rund \_\_\_\_\_ grösser als die Schweiz. Der Nationalfeiertag ist am 2. Juni. Am 2. Juni 1946 wurde nach einer Volksabstimmung der italienische König ins Exil geschickt. Die Italiener sprechen italienisch. Italien hat \_\_\_\_\_ Einwohner.

Der grosse Nachbar im Osten heisst Österreich. Das Land ist mit rund 84'000 km<sup>2</sup> rund \_\_\_\_\_ so gross wie die Schweiz. Die Hauptstadt des Landes heisst \_\_\_\_\_. Der Nationalfeiertag ist am 26. Oktober. Am 26. Oktober 1955 beschlossen die Österreicher, neutral zu sein. Österreich hat \_\_\_\_\_ Einwohner.



In der Flagge fehlt noch etwas!  
Zeichne selbst!

Östlich der Schweiz liegt noch das kleine Ländchen Fürstentum Liechtenstein. Mit einer Fläche von rund 160 km<sup>2</sup> ist es gerade mal so gross wie der Kanton Appenzell Innerroden. Die Hauptstadt des Landes heisst \_\_\_\_\_. Der Nationalfeiertag ist am 15. August. Dies ist der Geburtstag des Fürsten. Liechtenstein hat \_\_\_\_\_ Einwohner.



Zeichne die Formen selbst! Wenn du möchtest, kannst du danach auch die genauen Umrisse zeichnen.

A large, empty rectangular box with a thin black border, intended for the student to draw the geometric shapes and the actual outline of Switzerland.

Fläche: \_\_\_\_\_ km<sup>2</sup>

Einwohnerzahl: \_\_\_\_\_ Ew.

Einwohnerdichte: \_\_\_\_\_ Ew./km<sup>2</sup>

Hauptstadt: \_\_\_\_\_

grösste Stadt: \_\_\_\_\_

grösster Kanton (Fläche): \_\_\_\_\_

grösster Kanton (Einwohner): \_\_\_\_\_

kleinster Kanton (Fläche): \_\_\_\_\_

kleinster Kanton (Einwohner): \_\_\_\_\_

höchster Punkt: \_\_\_\_\_ (\_\_\_\_\_ m)

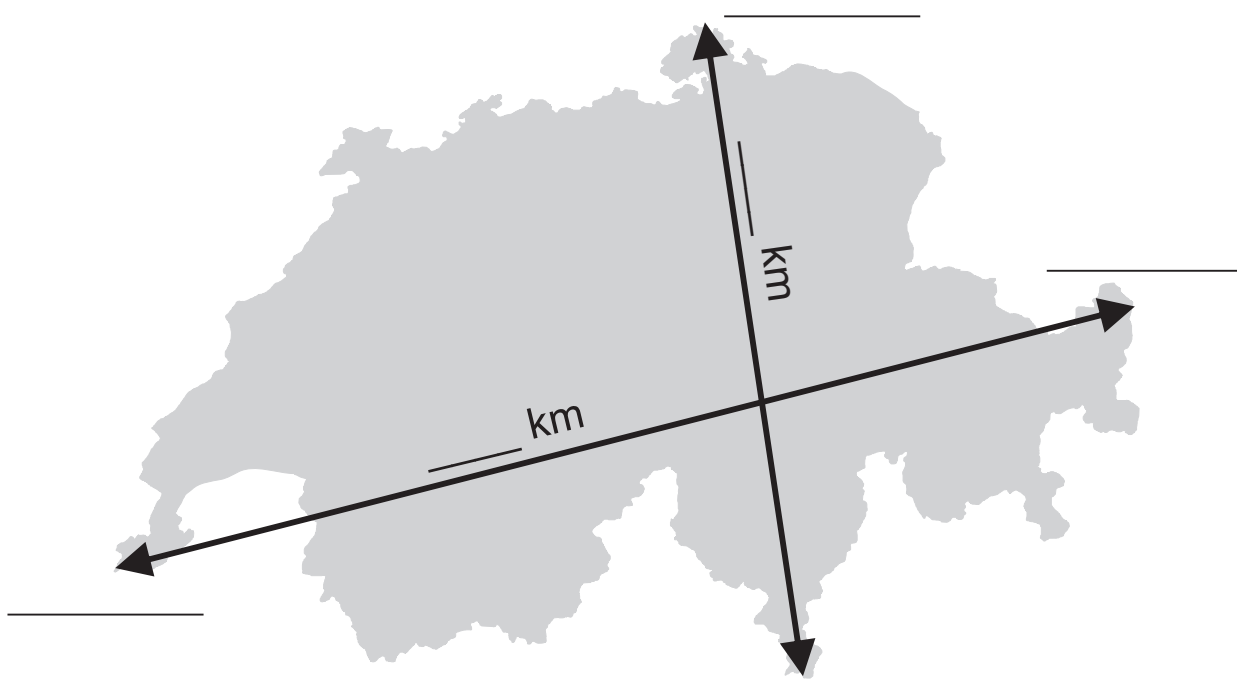
tiefster Punkt: \_\_\_\_\_ (\_\_\_\_\_ m)

längster Fluss: \_\_\_\_\_

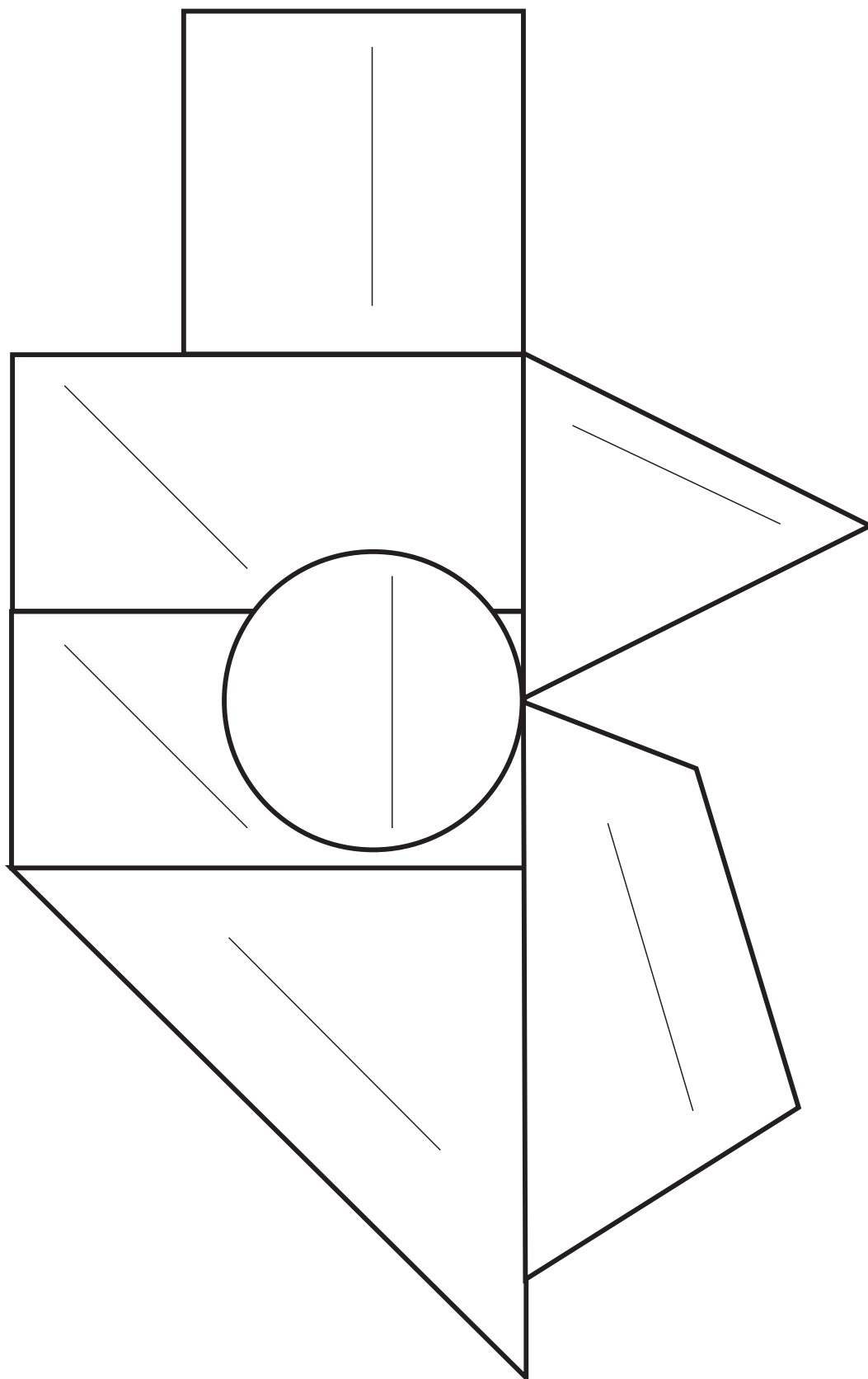
grösster See: \_\_\_\_\_

grösster See (ganz in CH): \_\_\_\_\_

Grenzlänge der Schweiz: \_\_\_\_\_



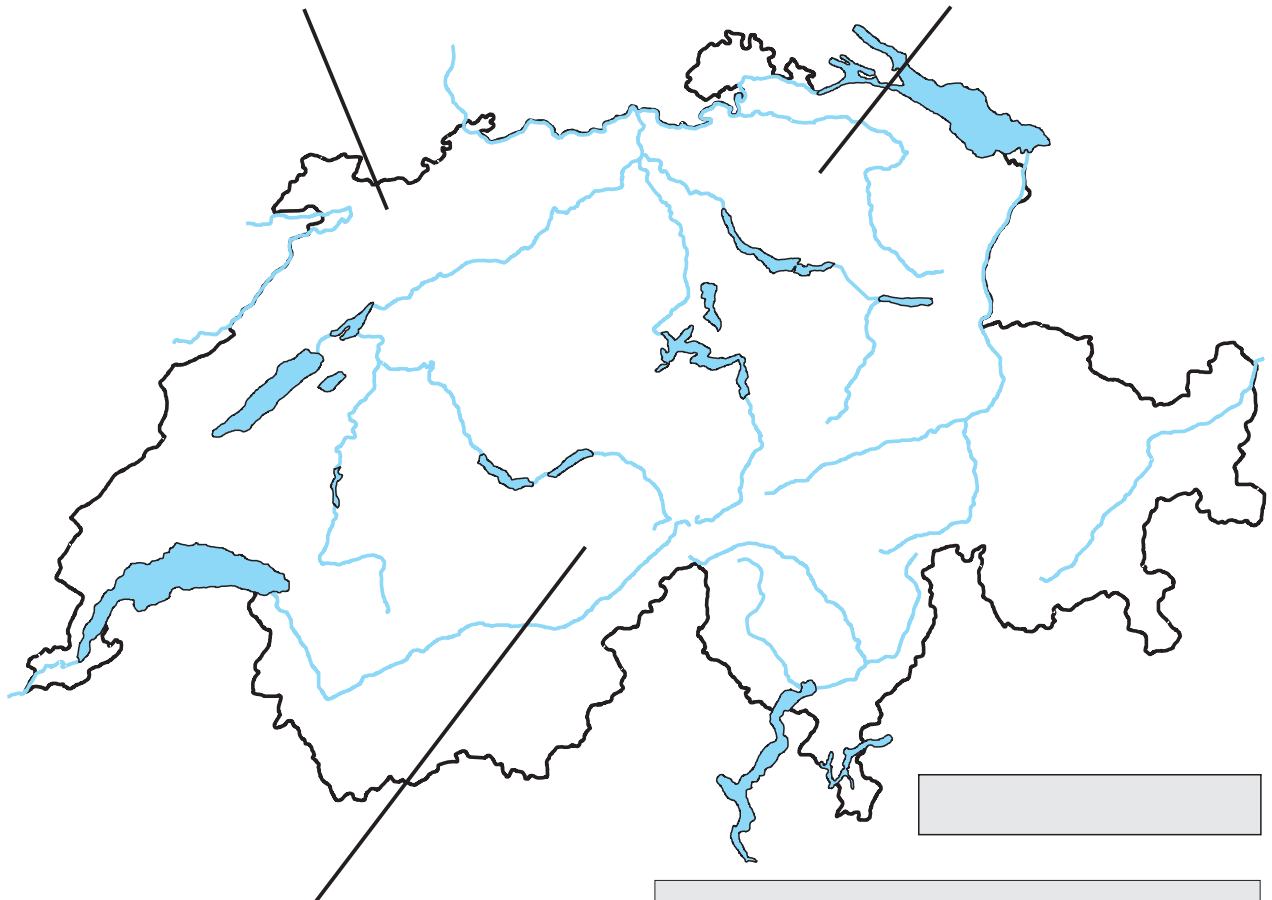
Ordne die verschiedenen Regionen zu!

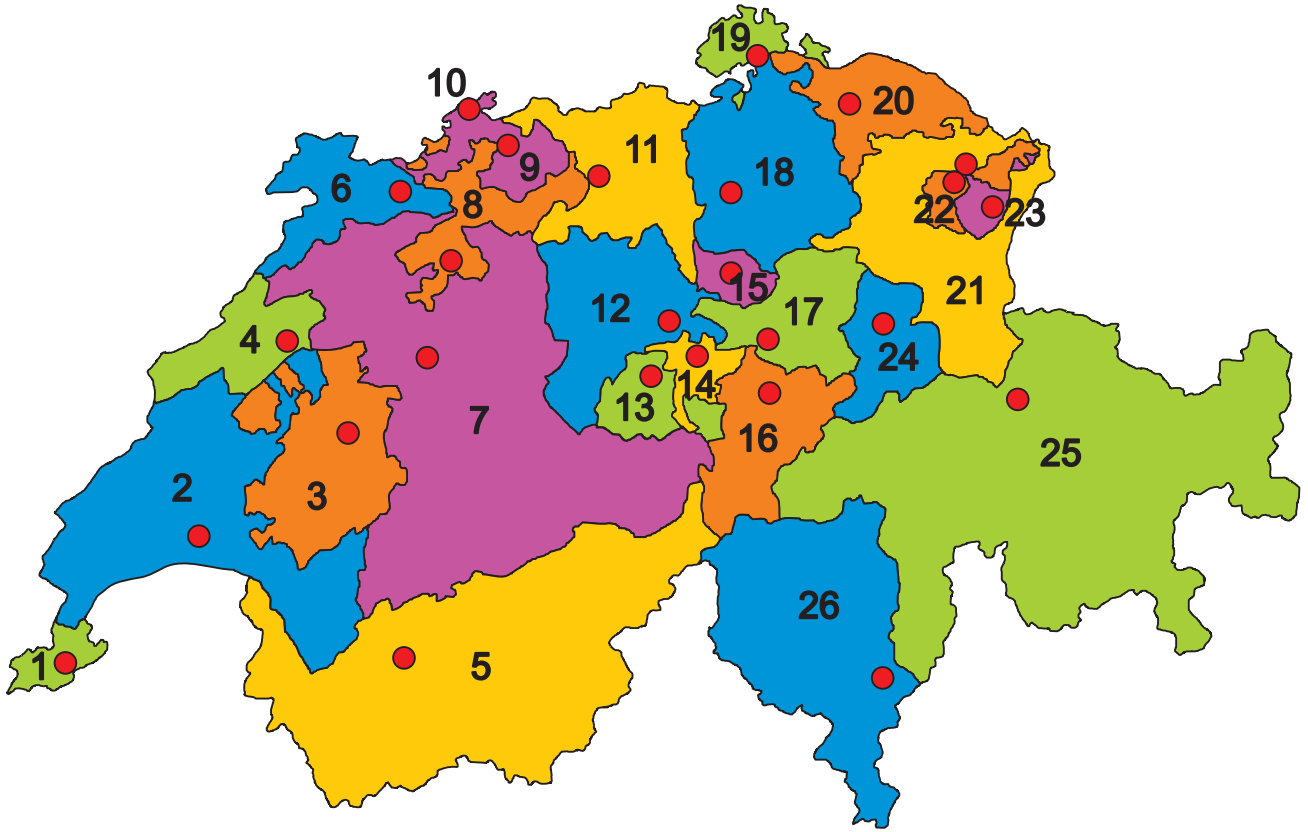


Nordostschweiz - Graubünden - Tessin - Westschweiz - Zentralschweiz - Wallis  
Nordwestschweiz



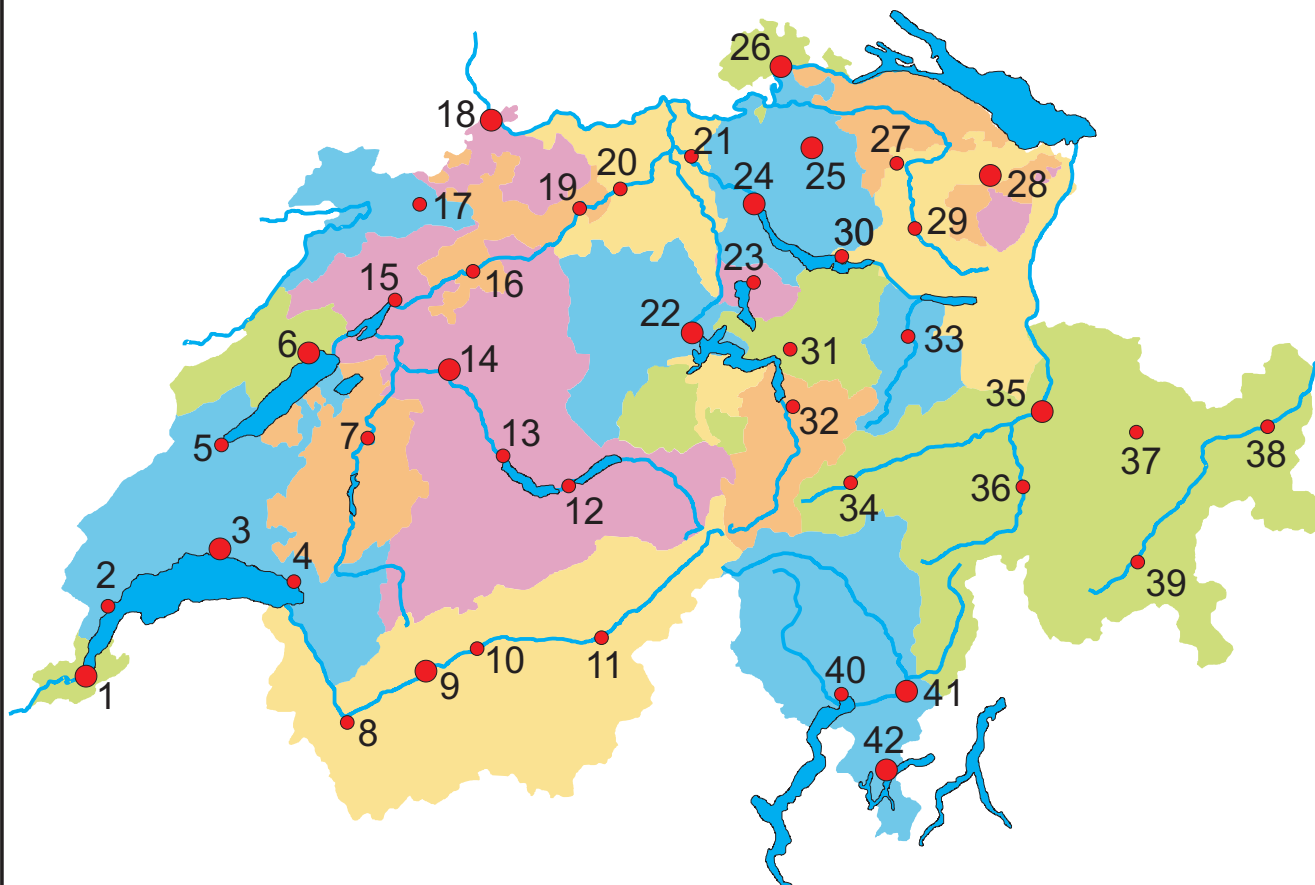
Zeichne mit Hilfe der Schweizerkarte die drei Landschaften (Jura, Mittelland und Alpen) der Schweiz ein, beschrifte sie und male sie aus. Die Gewässer helfen dir bei der Orientierung! Klebe die Bilder und die Texte auf und beschrifte sie ebenfalls!





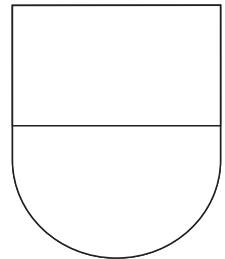

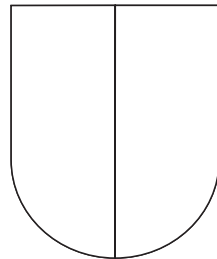


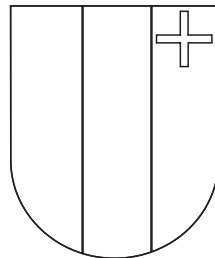



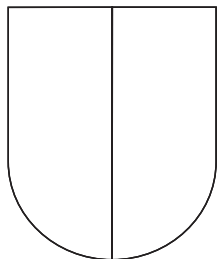
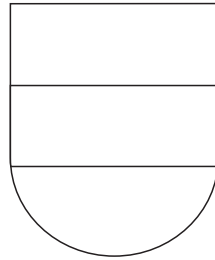
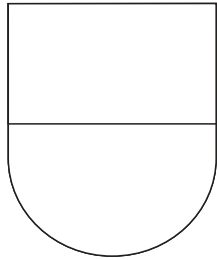

	Kanton	Kürzel	Hauptstadt
1)	_____	_____	_____
2)	_____	_____	_____
3)	_____	_____	_____
4)	_____	_____	_____
5)	_____	_____	_____
6)	_____	_____	_____
7)	_____	_____	_____
8)	_____	_____	_____
9)	_____	_____	_____
10)	_____	_____	_____
11)	_____	_____	_____
12)	_____	_____	_____
13)	_____	_____	_____




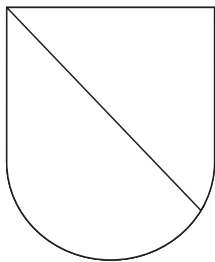


	Kanton	Kürzel	Hauptstadt
14)	_____	_____	_____
15)	_____	_____	_____
16)	_____	_____	_____
17)	_____	_____	_____
18)	_____	_____	_____
19)	_____	_____	_____
20)	_____	_____	_____
21)	_____	_____	_____
22)	_____	_____	_____
23)	_____	_____	_____
24)	_____	_____	_____
25)	_____	_____	_____
26)	_____	_____	_____

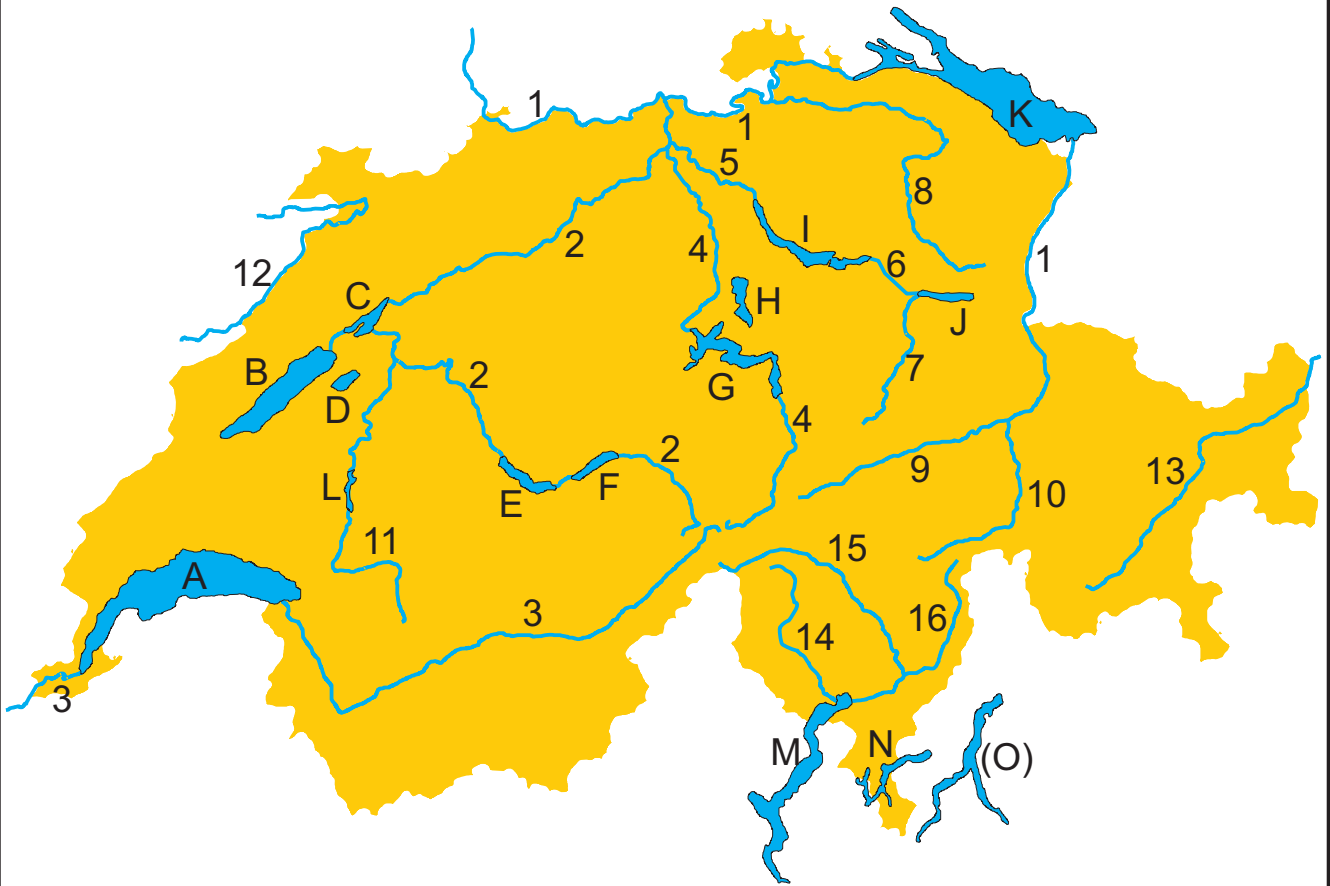


- 1) \_\_\_\_\_
- 2) \_\_\_\_\_
- 3) \_\_\_\_\_
- 4) \_\_\_\_\_
- 5) \_\_\_\_\_
- 6) \_\_\_\_\_
- 7) \_\_\_\_\_
- 8) \_\_\_\_\_
- 9) \_\_\_\_\_
- 10) \_\_\_\_\_
- 11) \_\_\_\_\_
- 12) \_\_\_\_\_
- 13) \_\_\_\_\_
- 14) \_\_\_\_\_
- 15) \_\_\_\_\_
- 16) \_\_\_\_\_
- 17) \_\_\_\_\_
- 18) \_\_\_\_\_
- 19) \_\_\_\_\_
- 20) \_\_\_\_\_
- 21) \_\_\_\_\_

- 22) \_\_\_\_\_
- 23) \_\_\_\_\_
- 24) \_\_\_\_\_
- 25) \_\_\_\_\_
- 26) \_\_\_\_\_
- 27) \_\_\_\_\_
- 28) \_\_\_\_\_
- 29) \_\_\_\_\_
- 30) \_\_\_\_\_
- 31) \_\_\_\_\_
- 32) \_\_\_\_\_
- 33) \_\_\_\_\_
- 34) \_\_\_\_\_
- 35) \_\_\_\_\_
- 36) \_\_\_\_\_
- 37) \_\_\_\_\_
- 38) \_\_\_\_\_
- 39) \_\_\_\_\_
- 40) \_\_\_\_\_
- 41) \_\_\_\_\_
- 42) \_\_\_\_\_







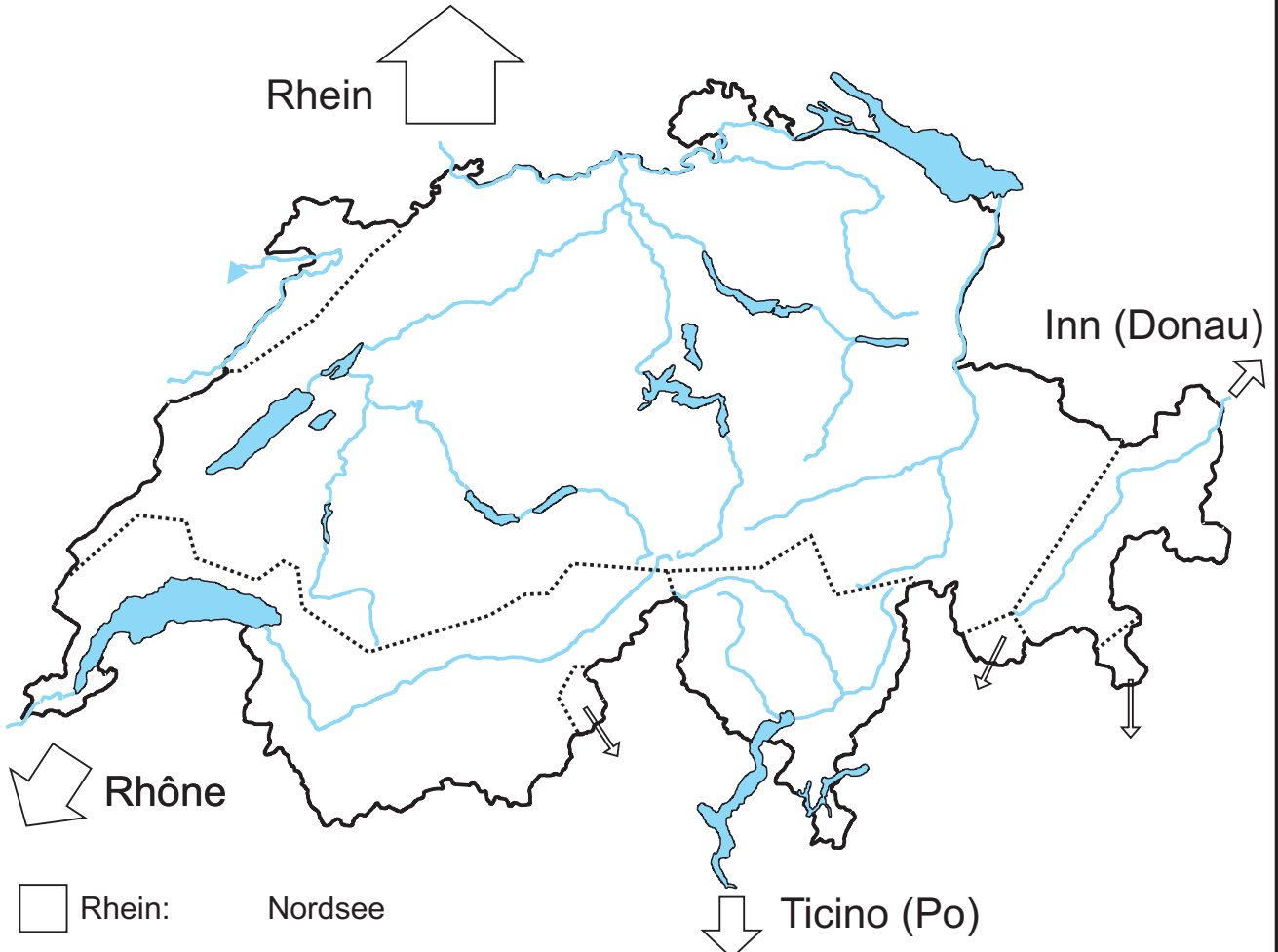
### Flüsse

- 1) \_\_\_\_\_
- 2) \_\_\_\_\_
- 3) \_\_\_\_\_
- 4) \_\_\_\_\_
- 5) \_\_\_\_\_
- 6) \_\_\_\_\_
- 7) \_\_\_\_\_
- 8) \_\_\_\_\_
- 9) \_\_\_\_\_
- 10) \_\_\_\_\_
- 11) \_\_\_\_\_
- 12) \_\_\_\_\_
- 13) \_\_\_\_\_
- 14) \_\_\_\_\_
- 15) \_\_\_\_\_
- 16) \_\_\_\_\_

### Seen

- A) \_\_\_\_\_
- B) \_\_\_\_\_
- C) \_\_\_\_\_
- D) \_\_\_\_\_
- E) \_\_\_\_\_
- F) \_\_\_\_\_
- G) \_\_\_\_\_
- H) \_\_\_\_\_
- I) \_\_\_\_\_
- J) \_\_\_\_\_
- K) \_\_\_\_\_
- L) \_\_\_\_\_
- M) \_\_\_\_\_
- N) \_\_\_\_\_
- O) \_\_\_\_\_

Im Gebiet der Alpen entspringen viele Bäche und Flüsse. Das Wasser, das von Regen, Schnee und den Gletschern stammt, fließt in verschiedene Richtungen. Die Grenzen zwischen den Abflussgebieten nennt man Wasserscheide (gepunktete Linien). Insgesamt fließt das Wasser aus der Schweiz in 3 verschiedene Meere: In die Nordsee, in die Adria (Mittelmeer), in den Golf von Lion (Mittelmeer) und in das Schwarze Meer.



- Rhein: Nordsee
- Rhône: Mittelmeer (Golfe du Lion)
- Ticino - Po: Mittelmeer (Adria)
- Inn - Donau: Schwarzes Meer

Zeichne die Flüsse ab der Schweizer Grenze mit der entsprechenden Farbe im Ausschnitt der Europakarte ein!  
Hilfsmittel: Atlas, Google Earth





Zeichne mit Hilfe der Schweizerkarte die Sprachgrenzen ein! Die Seen und Flüsse helfen dir bei der Orientierung.  
Male die einzelnen Sprachregionen aus und beschrifte sie in der Legende!


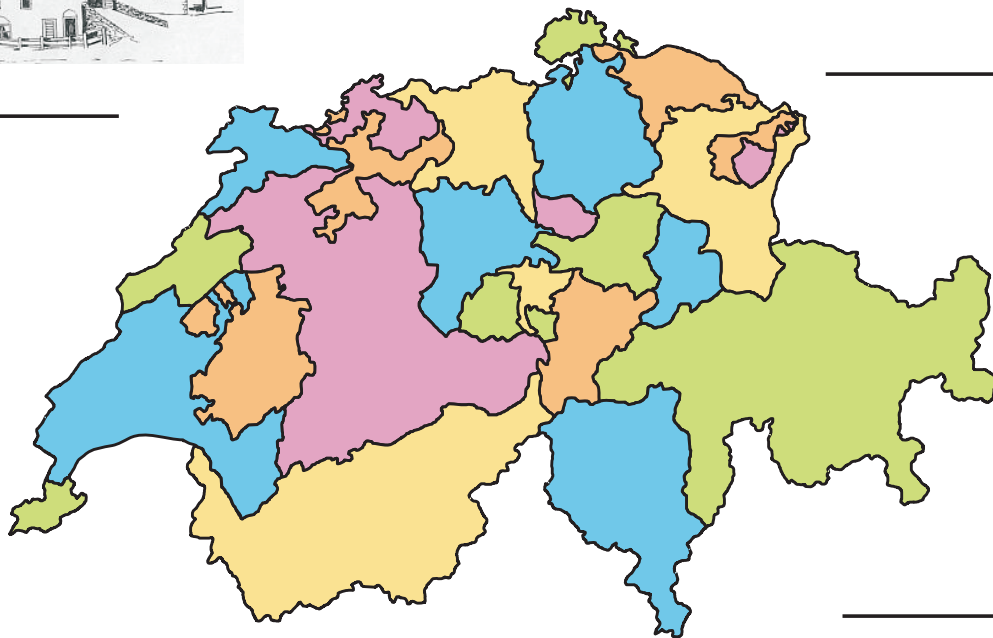




- \_\_\_\_\_ ( \_\_\_\_ % )
- \_\_\_\_\_ ( \_\_\_\_ % )
- \_\_\_\_\_ ( \_\_\_\_ % )
- \_\_\_\_\_ ( \_\_\_\_ % )
- andere Sprachen ( \_\_\_\_ % )


Findest du heraus, wie man 'Schweiz' in den vier Landessprachen sagt?  
Kleiner Tipp: Es steht zum Beispiel auf der Identitätskarte oder dem Pass.

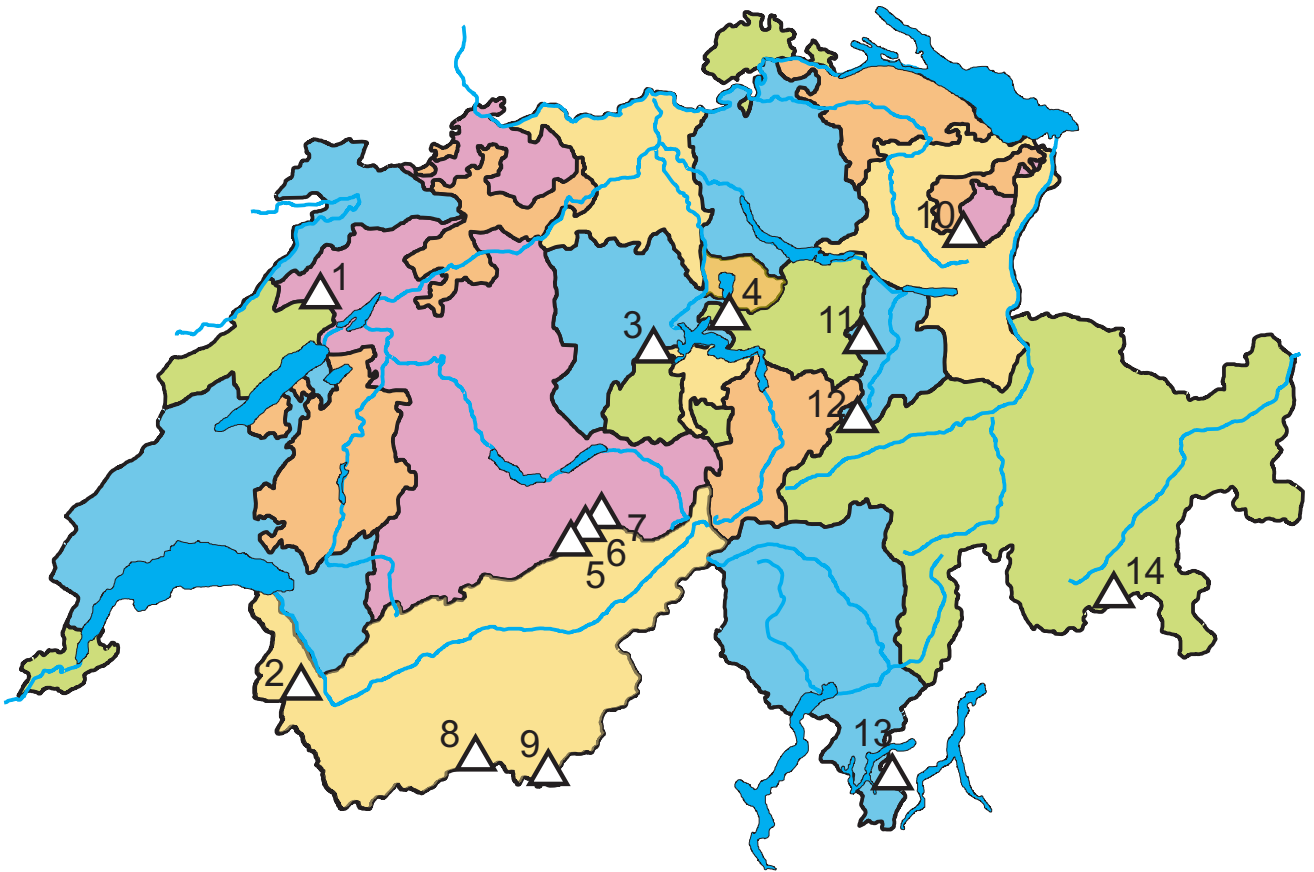
\_\_\_\_\_

\_\_\_\_\_

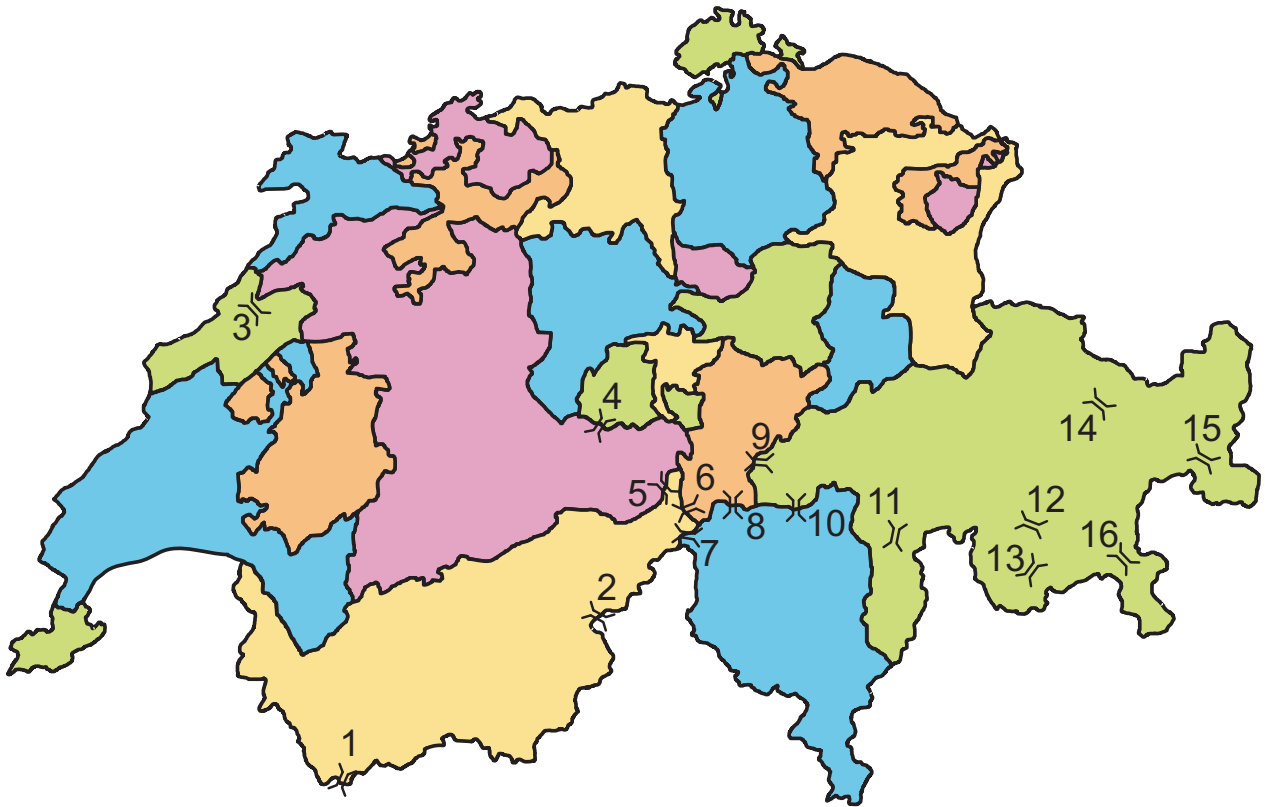


Jura - Engadin (GR)  
Tessin - Wallis  
Appenzell  
Bern Oberland  
Thurgau - Bern






	Berg	Höhe
1)	_____	1607 m
2)	_____	3257 m
3)	_____	2120 m
4)	_____	1798 m
5)	_____	4158 m
6)	_____	4107 m
7)	_____	3970 m
8)	_____	4478 m
9)	_____	4634 m
10)	_____	2502 m
11)	_____	2914 m
12)	_____	3614 m
13)	_____	1702 m
14)	_____	4049 m





Nr.	Pass	von	nach
1)	_____	_____	_____
2)	_____	_____	_____
3)	_____	_____	_____
4)	_____	_____	_____
5)	_____	_____	_____
6)	_____	_____	_____
7)	_____	_____	_____
8)	_____	_____	_____
9)	_____	_____	_____
10)	_____	_____	_____
11)	_____	_____	_____
12)	_____	_____	_____
13)	_____	_____	_____
14)	_____	_____	_____
15)	_____	_____	_____
16)	_____	_____	_____

Schreibe zu jedem Kanton die Abkürzung!  
Vorsicht: Die Grössenverhältnisse stimmen nicht!



Vorsicht: Die Grössenverhältnisse stimmen nicht!





### Waagerecht:

2. Fließt durch den Kanton Uri
6. Diesen See teilen wir mit den Franzosen
7. Dieser Fluss heisst gleich wie der Kanton
9. Durchfließt den Briener-, Thuner- und Bielersee
12. Entspringt nicht in der Schweiz
13. Mündet zwischen Locarno und Ascona
15. Fließt durchs Toggenburg
17. Die Linth mündet in diesen See
20. Fließt ins Schwarze Meer
21. Diesen See teilen wir mit Österreich und Deutschland
22. Liegt östlich des Neuenburgersees
24. Liegt nördlich des Murtensees
26. Liegt nördlich des Vierwaldstättersees
27. Durchfließt den Kanton Glarus

### Senkrecht:

1. Mündet in den Vorderrhein
2. Verlässt bei Basel die Schweiz
3. Ist der grösste See, der nur auf Schweizer Gebiet liegt
4. Liegt im Herzen der Schweiz
5. Die Strasse und die Eisenbahn überqueren ihn bei Melide
8. Entspringt beim Oberalppass
10. Heisst gleich wie der Kanton und dessen Hauptstadt
11. Durchfließt Fribourg
14. Liegt östlich vom Thunersee
16. Liegt westlich von Interlaken
18. Verbindet den Walen- mit dem Zürichsee
19. Nur ein kleiner Teil davon liegt in der Schweiz
23. Verlässt den Zürichsee
25. Durchfließt das Wallis

Kanton: \_\_\_\_\_ Abkürzung: \_\_\_\_\_

Hauptort: \_\_\_\_\_

Eintritt in den Bund der Eidgenossenschaft im Jahr \_\_\_\_\_

Fläche des Kantons: \_\_\_\_\_ (Rang \_\_\_\_ in der Schweiz)

Einwohnerzahl: \_\_\_\_\_ (Rang \_\_\_\_ in der Schweiz)

Bevölkerungsdichte: \_\_\_\_\_ (Rang \_\_\_\_ in der Schweiz)

Höchster Punkt des Kantons: \_\_\_\_\_ (\_\_\_\_\_ m)

Tiefster Punkt des Kantons: \_\_\_\_\_ (\_\_\_\_\_ m)

Beschreibung des Wappens in Worten (Besonderes, Wer oder was ist zu sehen?, Herkunft):

---

---

---

Nachbarkantone und -länder (sofern vorhanden):

---

---

Gewässer (Flüsse und Seen) im Kanton:

---

---

Sehenswürdigkeiten, mögliche Ausflüge, Feste, Bräuche, Bergbahnen, etc.:

---

---

---

---

Essen und Trinken:

---


---

Weiteres:

---

---





1) Wie heisst das Nachbarland, das im Süden der Schweiz liegt?  
\_\_\_\_\_

2) Wie heisst die Hauptstadt des Fürstentums Liechtenstein?  
\_\_\_\_\_

3) Wie viele Quadratkilometer umfasst die Schweiz ungefähr?  
\_\_\_\_\_ km<sup>2</sup>

4) Welcher Kanton hat die grösste Fläche?  
\_\_\_\_\_

5) Wie viele Prozent der Schweizer Fläche entfällt auf die Alpen? \_\_\_\_\_ %

6) Wie heisst die Hauptstadt des Kantons Tessin? \_\_\_\_\_

7) Von welchem Kanton ist Delsberg der Hauptort? \_\_\_\_\_

8) Welches Kantonskürzel trägt der Kanton Waadt? \_\_\_\_\_

9) Welche Ortschaft liegt an der Linth? \_\_\_\_\_

10) Welche Ortschaft liegt am Rhone-Knie? \_\_\_\_\_

11) Welches Kantonswappen zeigt als einziges einen Menschen?  
\_\_\_\_\_

12) Welches Kantonswappen zeigt zwei Löwen? \_\_\_\_\_

13) Welches Kantonswappen ist diagonal halbiert? \_\_\_\_\_

14) Was steht im Wappen des Kantons Waadt? \_\_\_\_\_

15) Welcher Fluss verlässt bei Basel die Schweiz? \_\_\_\_\_

16) Durch welchen See fliesst die Reuss? \_\_\_\_\_

17) In welches Meer fliesst der grösste Teil des Schweizer Wassers?  
\_\_\_\_\_

18) Wie heisst die Schweiz auf Französisch? \_\_\_\_\_

19) Wie heisst der wohl bekannteste Berg der Schweiz?  
\_\_\_\_\_

20) Welcher Pass liegt auf der Kantongrenze zwischen Graubünden und dem Tessin?  
\_\_\_\_\_

Punkte: \_\_\_\_ / 20

1) Welches Nachbarland der Schweiz hat am meisten Einwohner? \_\_\_\_\_

2) Wie heisst die Hauptstadt des Nachbarlandes mit den zweitwenigsten Einwohnern? \_\_\_\_\_

3) Wie lange ist die Schweizer Grenze? \_\_\_\_\_ km

4) Wo liegt der tiefste Punkt der Schweiz? \_\_\_\_\_

5) Welche Landschaft der Schweiz zeichnet sich durch langgestreckte Hügelketten aus? \_\_\_\_\_

6) Wie heisst die Hauptstadt des östlichsten Kantons der Schweiz? \_\_\_\_\_

7) Wie heisst der Kanton, der nur einen einzigen Nachbarkanton hat? \_\_\_\_\_

8) Welcher Kantonskürzel besteht ausschliesslich aus Vokalen? \_\_\_\_\_

9) Welcher Ort liegt zwischen dem Thuner- und dem Brienersee? \_\_\_\_\_

10) Wie viele Ortschaften liegen an einem See, der den gleichen Namen trägt? \_\_\_\_\_

11) Wie viele Kantonswappen sind horizontal halbiert? \_\_\_\_\_

12) Wie viele Kantonswappen zeigen ein Tier? \_\_\_\_\_

13) Wie viele Kantonswappen haben nur die Farben schwarz und weiss? \_\_\_\_\_

14) Wie viele Sterne zeigt das Wappen des Kantons Wallis? \_\_\_\_\_

15) Welcher Fluss mündet bei Locarno in den See? \_\_\_\_\_

16) Welcher Fluss fliesst in der Schweiz durch drei Seen? \_\_\_\_\_

17) In welchen Fluss fliesst die Inn und welches Meer ist das Ziel? \_\_\_\_\_

18) Wie heisst die Schweiz auf Italienisch? \_\_\_\_\_

19) Welcher Berg liegt im Süden des Kantons Glarus? \_\_\_\_\_

20) Welcher Pass liegt zwischen dem Kanton Bern und dem Kanton Obwalden? \_\_\_\_\_

Punkte: \_\_\_ / 20

Ein Berner kommt ins Krankenhaus weil er sich ein Bein gebrochen hat. Der Arzt fragt ihn, wie das geschah. "Ich bin auf einer Schnecke ausgerutscht."

"Auf einer Schnecke, das ist aber ungewöhnlich! Haben Sie die denn nicht gesehen?"

"Nein, das ging nicht."

"Wieso nicht?"

"Sie kam so schnell von hinten."

Was ist der Unterschied zwischen Kolumbien und der Schweiz? In der Schweiz wird der Schnee in Metern gemessen, in Kolumbien in Kilogramm.

Welche Sprache spricht man in der Sauna? Schwitzerdeutsch.

Länderspiel in Bern. Die Nationalmannschaft der Schweiz spielt ausgezeichnet und führt mit zwei Toren Vorsprung. "Gar nicht übel", sagt ein Berner.

"Stimmt", erwidert sein Freund, "aber deshalb musst du doch nicht gleich in Raserei ausbrechen."

Ein Mann will in einer Bank in Zürich Geld einlegen. "Wie viel wollen sie denn einzahlen?" fragt der Kassier.

Flüstert der Mann: "Drei Millionen."

"Sie können ruhig lauter sprechen", sagt der Bankangestellte, "in der Schweiz ist Armut keine Schande!"

Als der liebe Gott den Schweizer erschaffen hatte, war ihm dieser sogleich ans Herz gewachsen. Also fragte ihn der liebe Gott:

"Mein lieber Schweizer, was kann ich noch für dich tun?"

Der Schweizer wünschte sich schöne Berge mit saftigen grünen Wiesen und kristallklaren Gebirgsbächen. Gott erfüllte ihm diesen Wunsch und fragte wiederum: "Was willst du noch?"

Darauf der Schweizer: "Jetzt wünsche ich mir auf den Weiden gesunde, glückliche Kühe, die die beste Milch auf der ganzen Welt geben."

Gott erfüllte ihm auch diesen Wunsch, und der Schweizer molk eine der Kühe und liess Gott ein Glas von der wunderbaren guten Milch kosten. Und wieder fragte Gott:

"Was willst du noch?" -

"Drei Franken fünfzig für die Milch!"

Noch rätselt eine Gruppe Wissenschaftler über die Herkunft von Ötzi.

Österreicher kann er nicht sein, man hat Hirn gefunden. Italiener kann er auch keiner sein, er hatte Werkzeug dabei. Vielleicht ist er ein Schweizer, weil er vom Gletscher überholt wurde. Aber wahrscheinlich ist er Deutscher, denn wer geht sonst mit Sandalen ins Hochgebirge!

## Mein Lieblings-Schweizer-Witz

---

---

---

---

---

---

---

---