

1x1 Karten Geschichten

Mama hat 3 Kinder.



Mama gibt jedem Kind 4 Bonbons.



$$4 + \underline{\quad} + \underline{\quad} = \underline{\quad}$$

Wie viele Bonbons haben sie zusammen?

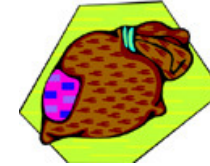
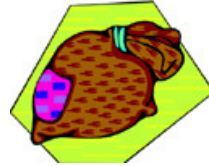
Sie haben zusammen Bonbons.

1x1 Karten Geschichten

Peter hat 2 Säcke.

In jedem Sack hat er fünf
Murmeln.

$$5 + \underline{\quad} = \underline{\quad}$$



Zusammen sind es Murmeln.

Wie viele Murmeln sind
es zusammen?

1x1 Karten Geschichten

Papa hat eine Schachtel Pralinen gekauft.

In der Schachtel hat es 5 Reihen.

In jeder Reihe sind 3 Pralinen.

$$3 + \underline{\quad} + \underline{\quad} + \underline{\quad} + \underline{\quad} = \underline{\quad}$$




Wie viele Pralinen sind es zusammen?

Zusammen sind es Pralinen.

1x1 Karten Geschichten

Der Bäcker kauft für seine Backstube 10 Eierschachteln.



In jeder Schachtel sind 6 Eier.

$$6 + \underline{\quad} + \underline{\quad} + \underline{\quad} + \underline{\quad} + \underline{\quad} + \underline{\quad} + \underline{\quad} + \underline{\quad} + \underline{\quad} =$$

Wie viele Eier sind es zusammen?

Zusammen sind
es _____ Eier.

1x1 Karten Geschichten

Thomas hat 4 Freunde.

Er schenkt jedem Freund
3 Spielautos .

$$3 + \underline{\quad} + \underline{\quad} + \underline{\quad} = \underline{\quad}$$



Wie viele Spielautos sind es
zusammen?

Zusammen sind es Spielautos.

1x1 Karten Geschichten

Susi hat 5 Taschen .

In jeder Tasche hat sie 5 Kaugummis.

$$5 + \underline{\quad} + \underline{\quad} + \underline{\quad} + \underline{\quad} = \underline{\quad}$$



Wie viele Kaugummis sind es zusammen?

Zusammen sind es Kaugummis.